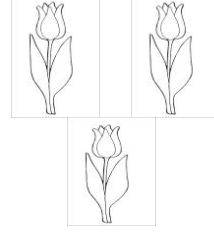





NESNE GRAFİĞİ ÇALIŞMAMIZ

Ben Nermin. Çiçekçi dükkanımda bulunan çiçekleri sizin için aşağıda gösterdim. Buna göre grafiği oluşturunuz.



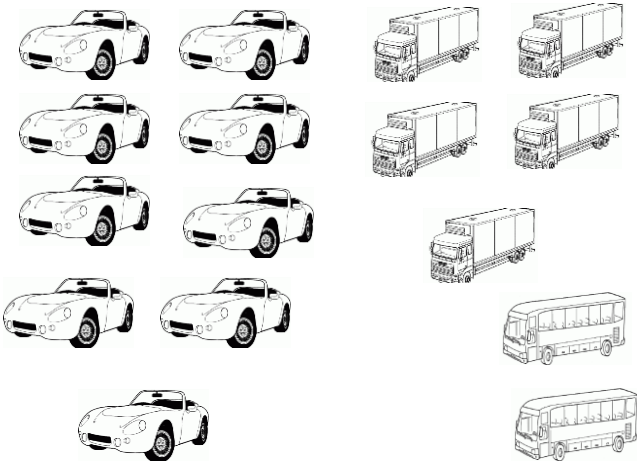
Grafikte çiçekleri kare şeklinde gösteriniz.

Aşağıdaki soruları tabloya göre cevaplayınız.

1- Kaç tane papatya vardır? 2- Kaç tane lale vardır?

3- Papatya ile güllerin toplamı kaçtır?

Bir otoparkta bulunan taşıt çeşitleri aşağıda gösterilmiştir. Buna göre aşağıdaki grafiği düzenleyiniz.



Grafikte taşıtları çizgi şeklinde gösteriniz.

1- Otoparkta en fazla olan taşıt nedir?

.....

2- Otoparkta toplam kaç taşıt vardır?

.....

Bir çiftlikte 13 inek, 13 koyun, 20 tavşan ve 5 tane at bulunmaktadır.

Yukarıdaki verilere göre aşağıdaki nesne grafiği oluşturunuz. Nesne grafiğini oluştururken her hayvanı daire şeklinde gösteriniz.

Aşağıdaki soruları yukarıda oluşturduğunuz nesne grafiğine göre cevaplayınız.

- 1- Çiftlikte en az hangi hayvandan bulunmaktadır?
- 2- Çiftlikteki hangi hayvanların sayısı birbirine eşittir?
- 3- Tavşan sayısı, at sayısından kaç fazladır?
- 4- Tavşan sayısı inek sayısından kaç fazladır?

Bir kütüphanede 28 çocuk kitabı, 25 tane roman, 15 tane şiir kitabı bulunmaktadır.

Yukarıdaki verilere göre aşağıdaki nesne grafiği oluşturunuz. Nesne grafiğini oluştururken her kitabı çizgi şeklinde gösteriniz.

Aşağıdaki soruları yukarıda oluşturduğunuz nesne grafiğine göre cevaplayınız.

- 1- Kütüphanede en fazla hangi kitap çeşidinden vardır?
- 2- Roman sayısı, şiir kitabı sayısından kaç fazladır?
- 3- Kütüphanede kaç tane kitap vardır?